

Score obtenu : / 28

1) **Opérations** : Trouve la somme totale pour chaque carré.

5	8
1	5

|

2	2
8	3

|

2	6
4	8

|

9	3
2	9

|

.../4

2) **Suites numériques** : Trouve la règle et écris le nombre manquant.

$6 - 12 - \square - 24$

$60 - 50 - \square - 30$

.../4

3) **Calculs enchaînés** : Calcule et complète les bulles.

$(12) + 3 \circ + 5 \circ - 6 \circ + 10 \circ + 12 \circ (36)$

.../4

4) **Relations entre les nombres** : Colorie d'une même couleur les cartes qui représentent le même nombre.

double de 6

moitié de 8

double de 14

moitié de 12

28

12

4

6

.../4

5) **Le compte est bon** : Effectue des calculs avec les nombres donnés pour trouver le nombre cible. Écris tes calculs dans les cases.

Attention : tu n'es pas obligé(e) d'utiliser tous les nombres et tu ne dois pas utiliser deux fois le même nombre.

$3, 10, 7, 9 \rightarrow (12)$

$2, 4, 6, 7 \rightarrow (13)$

.../4





6) **Problème** : Observe l'image pour répondre.

J'ai retiré ces cartes de mon paquet de 32 cartes.
Combien reste-t-il de cartes dans mon paquet ?



.../4

7) **Léo doit faire 14 en lançant 3 dés.** Retrouve la face du 3^e dé pour qu'il réussisse.



.../4